

3 միավոր գնահատվող առաջադրանքներ

1) Ո՞ր չես կարող գնալ:

- Ա) գործարան
- Բ) հարցարան
- Գ) դասարան
- Դ) գրադարան

2) Երկնքում ճախրում էին թիթեռը, ճնճուկը, ծիծեռնակը, սոճակը, մեղուն, ագռավը, բզեզն ու արոսը: Ընդամենը քանի՞ թռչուն էր թռչում երկնքով:

- Ա) 3
- Բ) 4
- Գ) 5
- Դ) 6

3) Տարբերակներից ո՞րն է ավելորդ:

- Ա) կրկին
- Բ) վերստին
- Գ) դարձյալ
- Դ) ստորին

4) Երկնագույն ու նարնջագույն հագուստներով աղջիկները բազմագույն ծաղիկների մեջ գեղեցկագույն պատկեր էին ստեղծել: Տրված բառերից ո՞րն է տարբեր մյուսներից:

- Ա) երկնագույն
- Բ) նարնջագույն
- Գ) բազմագույն
- Դ) գեղեցկագույն

5) Տարբերակներից ո՞րն է «օտար»:

- Ա) հոմանիշ
- Բ) նույնանիշ
- Գ) հականիշ
- Դ) համանիշ

6) Տարբերակներից ո՞րն է կապակցում գերան և գույն բառերը՝ լինելով մեկի հոմանիշը, մյուսի՝ գրաշրջումը (այսինքն՝ կազմված է նրա բոլոր տառերով):

- Ա) գարուն
- Բ) գայլ
- Գ) երանգ
- Դ) բույն

7) Աչքեր ունի, ոտքեր չունի,
Մարդ կսպանի, ձեռքեր չունի,
Հավկիթ ունի, փետուր չունի,
Շապիկ ունի, որ կար չունի: (Ժողովրդական հանելուկ)

- Ա) կրակ
- Բ) քամի
- Գ) օդապարիկ
- Դ) օձ

8) Եթե բառերը բաժանվեն բանակների, ապա ո՞ր բառագույգ(եր)ի բառերը կհայտնվեն միևնույն բանակում:

- 1) բիրտ - քնքուշ
- 2) երկչոտ - համարձակ
- 3) թավ - նստր
- 4) բուժել - առողջացնել
- 5) գթալ - կարեկցել

- Ա) 1; 2
- Բ) 4; 5
- Գ) 3
- Դ) 1; 5

9) «Նոր տարին կենդանաբանական այգում» պատմվածքում հիշատակվում է մի ոգևի, որը «շրջապատի բոլոր խանութները գիտի իր հարյուր տասնհինգ ասեղների նման»: Իսկ ինչպե՞ս են նման դեպքերում ասում մարդկանց մասին՝ գիտի իր...

- Ա) ... երեսուներկու ատամի նման
- Բ) ... հինգ մատի նման
- Գ) ... երկու ոտքի նման
- Դ) ... հարյուր հազար չորս հարյուր մագի նման

10) Ո՞ր տարբերակի բառազույգի բառերն են իրարից տարբերվում հնչյունական կազմով:

- Ա) Նարեկ - Կարեն
- Բ) մտրակ - մկրատ
- Գ) մարզանք - զարմանք
- Դ) կողով – ողորկ

4 միավոր գնահատվող առաջադրանքներ

11) Ո՞ր հեքիաթային հերոսի անունն է գաղտնագրվել:

Մենայբնուջաուկեն

- Ա) Մարդուկ-Ջարդուկ
- Բ) Մոխրոտիկ
- Գ) Մանչուկ
- Դ) Մատնաշափիկ

12) Ո՞ր կենդանիների խմբի անվանումը կստանաս, եթե ջնջես վանդակի այն տառերը, որոնք կրկնվում են հինգական անգամ:

ե	ն	ր	կ	խ	ի
ի	ր	հ	խ	ե	ր
ո	խ	ն	ի	մ	ե
ր	ն	ի	ր	ե	ի
խ	ե	ն	խ	ա	ն

- Ա) գայլերի
- Բ) այծերի
- Գ) խոզերի
- Դ) առյուծների


13) Պատասխանի տարբերակների բառագույգերից մեկը որոշակի օրինաչափությամբ միահյուսվել-դարձել է նկարում բերված գրվածքը: Ո՞ր բառագույգն է դա:

Աջիացկուեսրուտ

- Ա) Արտաշես — Արտաշատ
- Բ) աշակերտ — ուսուցիչ
- Գ) չորանոց — աշտարակ
- Դ) աշխատանք — տարեկից

14) Ի՞նչ է գաղտնագրվել նկարելուկով:

- Ա) հումք
- Բ) քարհանք
- Գ) համրանք
- Դ) հերքում



15) Ո՞ր հայ արքան է բացվել հայկական քաղաքների շարքում որոշակի օրինաչափությամբ:

Արարատ, Վանաձոր, Բերդ, Ախթալա, Արտաշատ

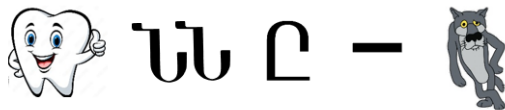
- Ա) Մենուա
- Բ) Արշակ
- Գ) Տրդատ
- Դ) Գագիկ

16) Գտիր բերված տառային ծածկագրի ճիշտ լուծումը:

$$\begin{array}{r} \text{ԿՐԻԱ} \\ + \\ \text{ԿՐԻԱ} \\ \hline \text{ԱՐԱԳ} \end{array}$$


$$\begin{array}{r} \text{Ա.} \quad \begin{array}{r} 2975 \\ + \\ \hline 5950 \end{array} \quad \text{Բ.} \quad \begin{array}{r} 1864 \\ + \\ \hline 3928 \end{array} \quad \text{Գ.} \quad \begin{array}{r} 4197 \\ + \\ \hline 8394 \end{array} \quad \text{Դ.} \quad \begin{array}{r} 3086 \\ + \\ \hline 6172 \end{array} \end{array}$$

17) Ի՞նչ է գաղտնագրվել նկարելուկով:



- Ա) ատամը կտրել
- Բ) գայլի ախորժակ
- Գ) ատամները հաշվել
- Դ) ատամները հանած գայլ

18) Ո՞ր թվագույզն է թաքցրել մեղվիկը:

- արև — 3/4
- ոզնի — 4/5
- կայտար — 6/6
- գլխարկ — 6/7
- աշխարհ — 

- Ա) 5/4
- Բ) 4/6
- Գ) 6/5
- Դ) 6/6

19) Թավշայնություն բառից կրկնվող տառերը հանելուց հետո մնացած տառերին ո՞ր տարբերակի ձայնավորն ավելացնենք, որ կարդանք կտավատի «ընկերոջը»:

- Ա) ա
- Բ) ի
- Գ) ու
- Դ) ո

20) Մեղվիկը թաքցրել է պատասխանը: Գտի՛ր այն:

մեսանդիպադրիբոց - մեսանդիադիբ =



- Ա) մարդիկ
- Բ) հոգոց
- Գ) անդամ
- Դ) դպրոց

5 միավոր գնահատվող առաջադրանքներ

21) Ի՞նչ է հնարամտորեն թաքցվել բառաշարքում:

մեղր (Ա), գաթա (Բ), նուռ (Ա), մեղու (Դ),
դաշտ (Գ), առվակ (Դ), ոսկի (Գ)

- Ա) միրգ
- Բ) ծառ
- Գ) ծաղիկ
- Դ) կենդանի

22) Ի՞նչ է գաղտնագրվել նկարելուկով:

- Ա) ուրեմս
- Բ) անուշեղեն
- Գ) թեքել են
- Դ) անուշ լինի



23) Եթե բոլոր ամսանունները դասավորենք այբբենական կարգով, ապա տարվա առաջին ամիսն այդ ցանկում կհայտնվի վեցերորդ տեղում: Ո՞ր ամիսը կգլխավորի այբբենական այդ ցանկը:

- Ա) մարտ
- Բ) դեկտեմբեր
- Գ) ապրիլ
- Դ) հուլիս

24) Գաղտնի տեղեկություններ հաղորդելու համար մեր նախնիները ստեղծել են «կոտորակագիր» կոչվող ծածկագիրը, որում հայոց այբուբենի յուրաքանչյուր տառ ներկայացվում է որպես կետերից ու մի գծիկից բաղկացած պատկեր: Այդ տառերից երեքը երևում են նկար 1-ում: Կռահիր, թե ինչ օրինաչափությամբ են կետերը կապված տառերի հետ, և որոշիր, թե ինչ բառ է ծածկագրված նկար 2-ում:

Նկար 1

$$Թ = \begin{array}{c} \cdot \cdot \cdot \\ \cdot \cdot \cdot \\ \cdot \end{array}, \quad Մ = \begin{array}{c} \cdot \cdot \cdot \\ \cdot \cdot \cdot \\ \cdot \end{array}, \quad Վ = \begin{array}{c} \cdot \cdot \cdot \\ \cdot \cdot \cdot \\ \cdot \end{array}$$

Նկար 2

$$\begin{array}{c} \cdot \cdot \cdot \\ \cdot \cdot \cdot \\ \cdot \end{array} \begin{array}{c} \cdot \cdot \cdot \\ \cdot \cdot \cdot \\ \cdot \end{array} \begin{array}{c} \cdot \cdot \cdot \\ \cdot \cdot \cdot \\ \cdot \end{array} \begin{array}{c} \cdot \cdot \cdot \\ \cdot \cdot \cdot \\ \cdot \end{array} \begin{array}{c} \cdot \cdot \cdot \\ \cdot \cdot \cdot \\ \cdot \end{array} \begin{array}{c} \cdot \cdot \cdot \\ \cdot \cdot \cdot \\ \cdot \end{array} \begin{array}{c} \cdot \cdot \cdot \\ \cdot \cdot \cdot \\ \cdot \end{array}$$

- Ա) երազակ
- Բ) ընտանիք
- Գ) հայրենիք
- Դ) ուսուցչուհի

25) Ո՞ր տարբերակը չես գտնի աղյուսակում:

- Ա) զենք բաժանող մարդ
- Բ) ջուր բաժանող մարդ
- Գ) հեռու տեղից եկած մարդ
- Դ) զարմացած մարդ

			վ		
			վ		
			վ		
			վ		

26) Բաց թողնված տառերը լրացնելով՝ Գոհարը մի հետաքրքիր օրինաչափություն նկատեց և ուսուցչուհու առաջարկած տարբերակներից ընտրեց ճիշտը: Ո՞ր տարբերակն ընտրեց Գոհարը: *Դրսում ահա_ին շո_ էր: Պատարա__ի ելևէջները տարածվում էին Մայր տաճարից: Պար__ևը ունկնդրում էր՝ հենված պատշ_ամբի ճաղերին: Ներքևում լսվում էր զու_ված- զարդարված աղջիկների անհո_քրքիջը:*

- Ա) 2+5
- Բ) 3+4
- Գ) 4+3
- Դ) 6+1

27) Արմինեն արդեն կարողանում է գումարել և հանել, բայց դեռևս չի անցել կոտորակները: Մաթեմատիկական այս խնդիրներից ո՞րը նա կկարողանա լուծել:

Ա) Տղաները կազմում են դասարանի երեք հինգերորդը, իսկ նրանց մեկ յոթերորդը գերազանցիկներ են: Քանի՞ աշակերտ կա այդ դասարանում:

Բ) Դպրոցում կա երեք հինգերորդ դասարան: 5«ա»-ում սովորում է 25 աշակերտ, ինչը 4-ով պակաս է 5«բ»-ից և 6-ով ավելի 5«գ»-ից: Ըստամենը քանի՞ հինգերորդդասարանցի կա այդ դպրոցում:

Գ) Դասարանի աշակերտներից ինը հաճախում է երաժշտության: Նրանք կազմում են դասարանի երեք ութերորդը: Քանի՞ աշակերտ է հաճախում երաժշտության:

Դ) Արմինեն խնդիրներից ոչ մեկը չի կարողանա լուծել:

28. Ի՞նչ թիվ է թաքցրել մեղվիկը:

հայ - 1
հայկական - 5

լույս - 1
լուսամուտ - 4

դանակ - 2
ափսե - 2

այլուր - 2
թիվաձք -



- Ա. 2
- Բ. 3
- Գ. 4
- Դ. 5

29) Ի՞նչ նախադասությունն է ծածկագրվել նկարելուկով:



- Ա) Մենք կանք, մենք ինն ենք:
- Բ) Մեկն ու երկուսը կարմիր քարեր են:
- Գ) Սպիտակ մկան աչքերը կարմիր են:
- Դ) Մտքին կանաչներն ու կարմիրներն են:

30) Ահա երաժշտական նոտաների սովորական հերթականությունը՝ դդ, նե, մի, ֆա, սոլ, յյա, սի: Նոտաներից քանի՞սը կմնան իրենց տեղերում, եթե դրանք դասավորենք այբբենական կարգով:

- Ա) ոչ մեկը
- Բ) 1
- Գ) 2
- Դ) 3